

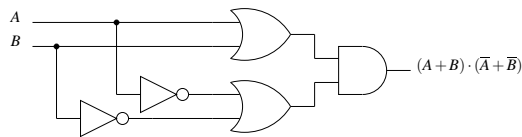
# Architecture des ordinateurs

## Corrigé du TD 4 : Circuits combinatoires

Arnaud Giersch, Benoît Meister et Frédéric Vivien

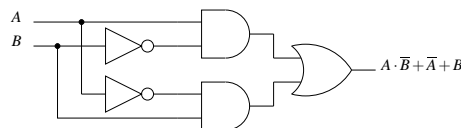
1. Exprimer la fonction **xor** comme un produit de sommes et réaliser le circuit logique correspondant.

**Correction :**  $A \oplus B = (A + B) \cdot (\bar{A} + \bar{B})$



Même question en exprimant **xor** comme une somme de produits.

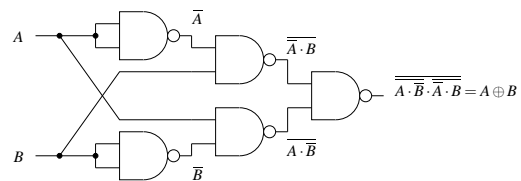
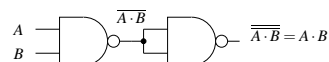
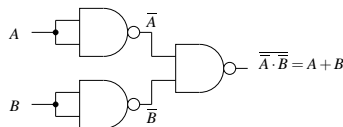
**Correction :**  $A \oplus B = A \cdot \bar{B} + \bar{A} \cdot B$



2. La fonction **nand** formant un groupe logique complet, réaliser, uniquement avec des portes **nand**, les circuits logiques **not**, **and**, **or** et **xor** (les formules sont rappelées ci-dessous).

- not( $A$ ) = nand( $A, A$ )
- and( $A, B$ ) = nand(nand( $A, B$ ), nand( $A, B$ ))
- or( $A, B$ ) = nand(nand( $A, A$ ), nand( $B, B$ ))
- xor( $A, B$ ) = nand(nand(nand( $A, A$ ),  $B$ ), nand( $A$ , nand( $B, B$ )))

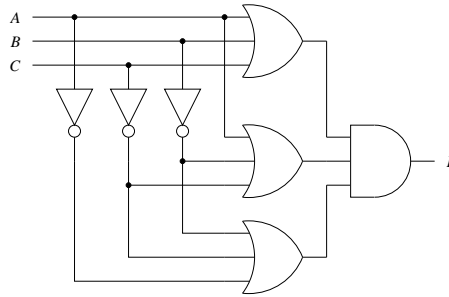
**Correction :**



3. Réaliser un circuit logique qui implémente la fonction  $F$ .

$$F = (A + B + C) \cdot (A + \bar{B} + \bar{C}) \cdot (\bar{A} + \bar{B} + \bar{C})$$

**Correction :**



4. Un générateur de parité impaire est une fonction qui retourne 1 si le nombre de bits à 1 est impair et 0 sinon. Définir cette fonction pour un mot de 4 bits. Donner un circuit logique implémentant cette fonction.

**Correction :** La formule pour le générateur de parité impaire sur 4 bits ( $P$ ) obtenue directement à partir de la table de vérité est :

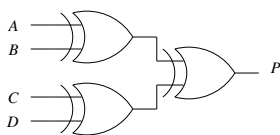
$$P = A \cdot \bar{B} \cdot \bar{C} \cdot \bar{D} + \bar{A} \cdot B \cdot \bar{C} \cdot \bar{D} + \bar{A} \cdot \bar{B} \cdot C \cdot D + \bar{A} \cdot \bar{B} \cdot C \cdot \bar{D} + \bar{A} \cdot B \cdot C \cdot D + A \cdot \bar{B} \cdot C \cdot D + A \cdot \bar{B} \cdot \bar{C} \cdot D + A \cdot B \cdot C \cdot \bar{D}$$

ce qui donnerait un circuit beaucoup trop compliqué !

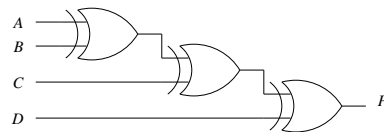
On remarque que pour deux bits,  $P = A \oplus B$  :

A	B	P
0	0	0
0	1	1
1	0	1
1	1	0

On en déduit les circuits suivants :

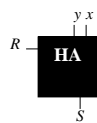


ou



5. Rappeler les principes d'un demi-additionneur puis d'un additionneur complet. Dédurre de ces principes un circuit logique qui implémente le complément à 2 sur  $n$  bits.

**Correction :** Le demi-additionneur possède deux entrées ( $x$  et  $y$ ) et deux sorties ( $R$  et  $S$ ).  $S$  correspond au bit de rang zéro du résultat de l'addition binaire de  $x$  et  $y$ ,  $R$  au bit de rang 1 (retenue).



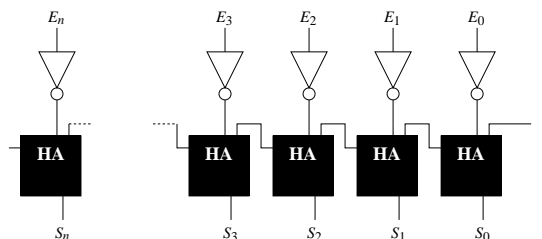
x	y	R	S
0	0	0	0
0	1	0	1
1	0	0	1
1	1	1	0

$$S = x \oplus y$$

$$R = x \cdot y$$

Un additionneur complet s'obtient en enchaînant des demi-additionneurs de manière à propager correctement la retenue.

On obtient selon le même principe le circuit effectuant un complément à deux :



6. Réaliser un circuit pour un décrémenteur à  $n$  bits.

**Correction :** On pourrait imaginer utiliser un soustracteur avec le deuxième opérande égal à 1 pour réaliser un décrémenteur.

Or la décrémentation (comme l'incrémement) est une opération fréquente sur certains registres (compteur ordinal, registre d'index, registre d'adresse, ...). Donc pour gagner du temps on souhaite construire un circuit spécialisé.

Considérons  $A_{n-1} \dots A_1 A_0$  le nombre binaire à décrémenteur. Appelons  $S_{n-1} \dots S_1 S_0$  le résultat de la décrémentation.

On sait que  $S$  est obtenu par soustraction de 1 et propagation de la retenue ( $R_i$ ). On a donc :

$$S_0 = A_0 - 1 :$$

$A_0$	1	$S_0$	$R_0$
0	1	1	1
1	1	0	0

$$S_0 = \overline{A_0}$$

$$R_0 = \overline{A_0}$$

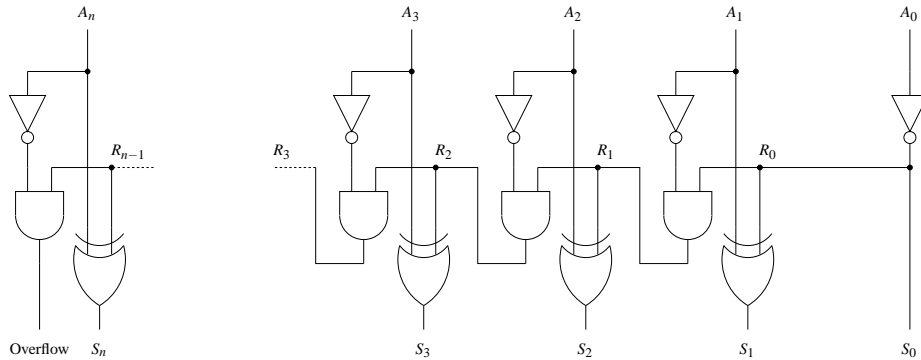
$$\text{et } S_i = A_i - R_{i-1} :$$

$A_i$	$R_{i-1}$	$S_i$	$R_i$
0	0	0	0
0	1	1	1
1	0	1	0
1	1	0	0

$$S_i = A_i \oplus R_{i-1}$$

$$R_i = \overline{A_i} \cdot R_{i-1}$$

D'où le circuit :



## 7. Le soustracteur

(a) Réaliser un demi-soustracteur (table de vérité et circuit).

**Correction :** Le demi-soustracteur est défini par la table de vérité suivante (le bit  $B_i$  est retranché au bit  $A_i$ ) :

$A_i$	$B_i$	$D_i$	$R_i$
0	0	0	0
0	1	1	1
1	0	1	0
1	1	0	0

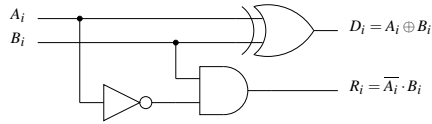
$D_i$  contient la différence  $A_i - B_i$   
 $R_i$  contient la retenue éventuelle

On a donc :

$$D_i = A_i \oplus B_i$$

$$R_i = \overline{A_i} \cdot B_i$$

D'où le circuit logique :



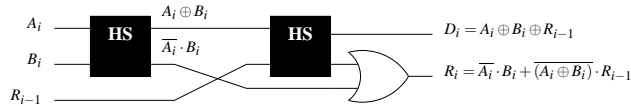
- (b) Réaliser un soustracteur binaire complet (ou *étage de soustracteur*) selon deux modes :
- i. avec deux demi-soustracteurs ;

**Correction :** Pour obtenir un soustracteur binaire complet il faut prendre en compte l'éventuelle retenue précédente  $R_{i-1}$ . La table de vérité est :

$R_{i-1}$	$A_i$	$B_i$	$D_i$	$R_i$
0	0	0	0	0
0	0	1	1	1
0	1	0	1	0
0	1	1	0	0
1	0	0	1	1
1	0	1	0	1
1	1	0	0	0
1	1	1	1	1

$$\begin{aligned}
 D_i &= \overline{R_{i-1}} \cdot (A_i \oplus B_i) + R_{i-1} \cdot \overline{(A_i \oplus B_i)} \\
 &= (A_i \oplus B_i) \oplus R_{i-1} \\
 R_i &= \overline{R_{i-1}} \cdot \overline{A_i} \cdot B_i + R_{i-1} \cdot \overline{A_i} \cdot \overline{B_i} \\
 &\quad + R_{i-1} \cdot \overline{A_i} \cdot B_i + R_{i-1} \cdot A_i \cdot B_i \\
 &= \overline{A_i} \cdot B_i \cdot (\overline{R_{i-1}} + R_{i-1}) \\
 &\quad + (\overline{A_i} \cdot \overline{B_i} + A_i \cdot B_i) \cdot R_{i-1} \\
 &= \overline{A_i} \cdot B_i + (A_i \oplus B_i) \cdot R_{i-1}
 \end{aligned}$$

d'où le circuit :



Ce schéma correspond au fait que le soustracteur est réalisé en  
 (1) retranchant  $B_i$  de  $A_i$  (1<sup>er</sup> demi-soustracteur) ;  
 (2) puis en retranchant  $R_{i-1}$  de la différence obtenue.

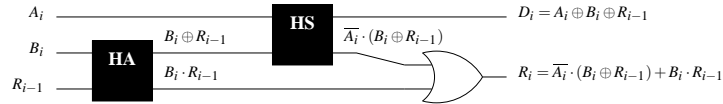
- ii. avec un demi-additionneur et un demi-soustracteur.

**Correction :** Une autre manière de procéder consiste à :

- (1) additionner  $B_i$  et  $R_{i-1}$  avec un demi-additionneur (cette opération peut évidemment engendrer une retenue) ;
  - (2) puis en retrancher le résultat obtenu de  $A_i$ .
- Cela est obtenu par transformation des fonctions logiques :

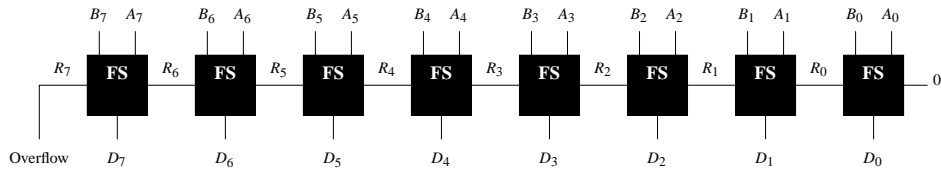
$$\begin{aligned}
 D_i &= A_i \oplus (B_i \oplus R_{i-1}) \\
 R_i &= \overline{A_i} \cdot (B_i \cdot \overline{R_{i-1}} + \overline{B_i} \cdot R_{i-1}) + (\overline{A_i} + A_i) \cdot B_i \cdot R_{i-1} \\
 &= \overline{A_i} \cdot (B_i \oplus R_{i-1}) + B_i \cdot R_{i-1}
 \end{aligned}$$

d'où le circuit :



- (c) Réaliser un soustracteur parallèle pour mots de 8 bits.

**Correction :** On utilise 8 soustracteurs complets :



## 8. Le (dé)multiplexeur

Un *multiplexeur* est un circuit logique qui dispose de  $2^n$  entrées, d'une unique sortie et de  $n$  lignes de sélection. Son principe de fonctionnement consiste à connecter, selon la configuration binaire présente sur les  $n$  lignes de sélection, l'une des entrées à la sortie. Les  $n$  lignes de sélection différencient  $2^n$  configurations binaires, chacune de ces configurations correspondant à l'entrée du multiplexeur qui doit être connectée à la sortie.

Un *démultiplexeur*, pour sa part, est un circuit logique qui dispose d'une unique entrée, de  $2^n$  sorties et de  $n$  lignes de sélection. Son principe de fonctionnement, à l'inverse de celui du multiplexeur, consiste à connecter, selon la configuration binaire présente sur les lignes de sélection, l'entrée à l'une des sorties.

- (a) Réaliser un multiplexeur à quatre voies (c'est-à-dire un multiplexeur à quatre entrées).

**Correction :** Soit  $S_0, S_1$  les lignes de sélection,  $I_0, \dots, I_4$  les entrées et  $O$  la sortie (cf. fig. 1).

- (b) Réaliser un démultiplexeur à quatre voies (c'est-à-dire un démultiplexeur à quatre sorties).

**Correction :** Soit  $S_0, S_1$  les lignes de sélection,  $I$  l'entrée et  $O_0, \dots, O_3$  les sorties (cf. fig. 2).

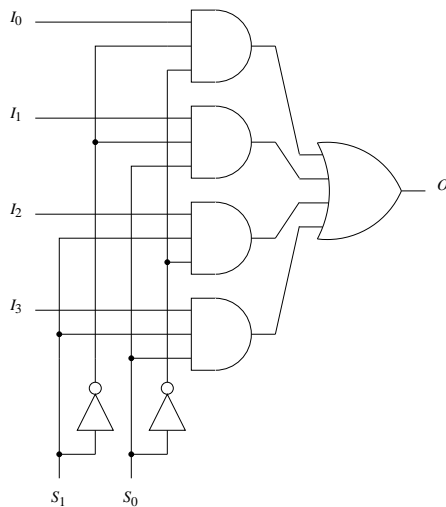


FIG. 1 – Multiplexeur à 4 voies.

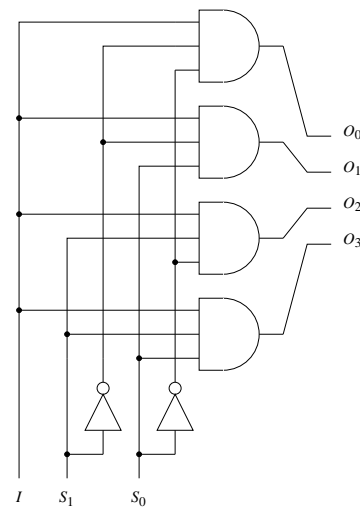


FIG. 2 – Démultiplexeur à 4 voies.

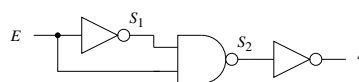
## 9. Les hasards logiques

Le *temps de passage d'une porte logique* est la durée entre l'instant où les signaux sont appliqués à l'entrée et celui où leur effet se répercute en sortie. Jusqu'à présent, ce temps de passage a été ignoré dans un souci de simplification. Toutefois, le temps de passage d'une porte logique n'est jamais nul (de l'ordre de 5 à 25 ns).

Si un étage logique est construit à l'aide de portes logiques (c'est-à-dire si la sortie d'une porte logique attaque l'une des entrées de la porte logique suivante) alors le temps de passage de l'étage est au moins égal à la somme des temps de passage des portes logiques qui le composent : dans ce cas, les temps de passage s'ajoutent. Il en résulte qu'un changement des données en entrée d'un montage, non seulement mettra un certain temps à se répercuter en sortie, mais pourra en plus provoquer des changements d'état (impulsions) non souhaités à la sortie. De telles impulsions parasites sont appelées *hasards logiques*.

- (a) Mise en évidence d'un hasard logique.

- i. Exprimer la valeur de la sortie  $S$  du circuit ci-dessous en fonction de son entrée  $E$ .



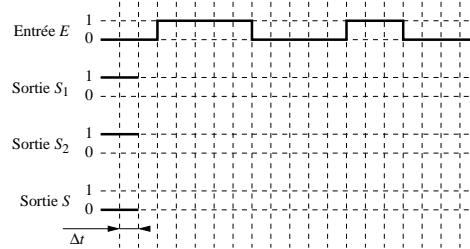
**Correction :**

$$S_1 = \overline{E}$$

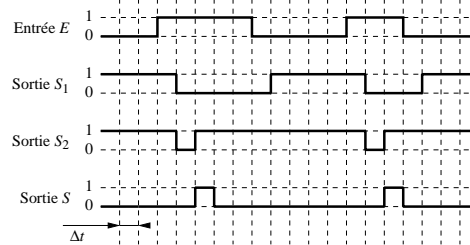
$$S_2 = \overline{\overline{E} \cdot E} = 1$$

$$S = \overline{S_2} = \overline{1} = 0$$

- ii. Compléter le chronogramme suivant de ce circuit (on considère que toutes les portes logiques mises en jeu ont un même temps de passage  $\Delta t$ ).



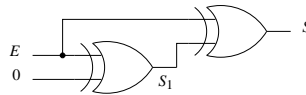
**Correction :**



Ce circuit se comporte comme un détecteur de transitions. Il peut être simplifié en remplaçant le nand et le deuxième not par un and, car  $\text{not}(\text{nand}(a,b)) = \text{and}(a,b)$ .

- (b) Exemples de mise à profit des hasards logiques : *détecteur de transitions*.

- i. Exprimer la valeur de la sortie  $S$  du circuit ci-dessous en fonction de son entrée  $E$ .



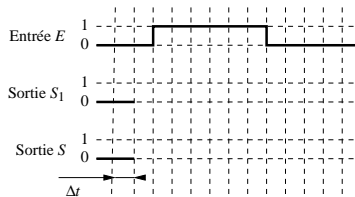
**Correction :**

$$S_1 = E \oplus 0 = E \quad (\text{c'est la fonction identité, mais avec un délai})$$

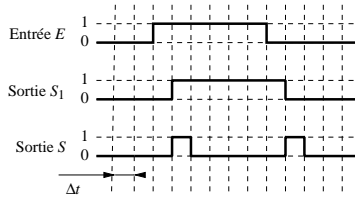
$$S = E \oplus E = 0$$

La sortie de ce circuit devrait donc toujours valoir 0. Mais le retard introduit par le premier xor implique que tout changement d'un état de  $E$  entraîne une impulsion positive de  $S$  comme le montre le chronogramme ci-dessous.

- ii. Compléter le chronogramme suivant de ce circuit (on considère que toutes les portes logiques mises en jeu ont un même temps de passage  $\Delta t$ ).

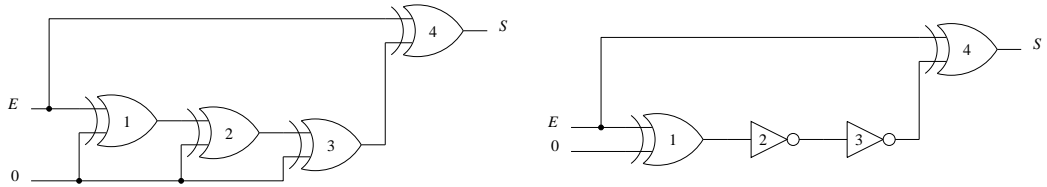


**Correction :**



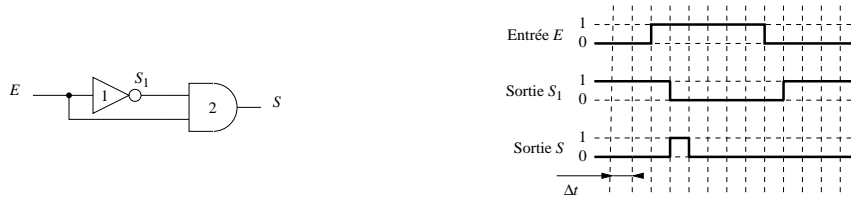
iii. Réaliser un détecteur de transitions pour lequel la durée des impulsions en  $S$  est de  $3\Delta t$ .

**Correction :** Il suffit d'avoir un délai de  $3\Delta t$  entre les deux entrées du xor. Ce délai peut être obtenu en ajoutant au circuit précédent deux portes xor, ou à l'aide d'un autre circuit réalisant l'identité avec un délai de  $3\Delta t$ , comme par exemple un xor et deux not.



(c) Réaliser un détecteur de front montant, c'est-à-dire un détecteur de transitions qui ne répond que lorsque le signal d'entrée passe d'un niveau bas à un niveau haut.

**Correction :** On se base toujours sur un délai entre deux entrées d'une porte logique. Les portes logiques choisies filtrent ensuite les cas souhaités. Ici, on utilise une porte not et and.



(d) Réaliser un détecteur de front descendant, c'est-à-dire un détecteur de transitions qui ne répond que lorsque le signal d'entrée passe d'un niveau haut à un niveau bas.

**Correction :** Ici on utilise une porte logique not et nor.

